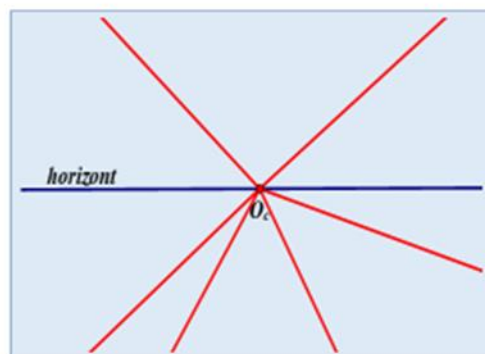


# Perspektiva s jednim nedogledom i sa dva nedogleda

Provjera znanja

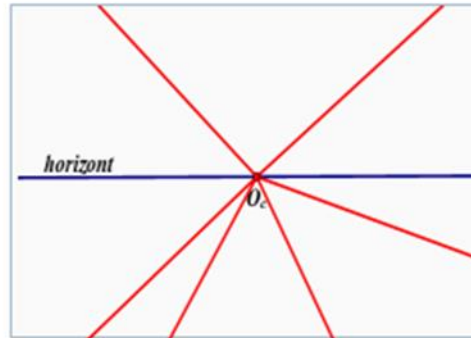
1. Nacrtni crveni pravci međusobno su :

- A. Okomiti
- B. Paralelni
- C. Sijeku se
- D. Mimoilazni



2. Nacrtni crveni pravci su:

- A. Okomiti na ravninu slike
- B. Paralelni s ravninom slike
- C. Mimosilazni s ravninom slike
- D. S ravninom slike zatvaraju različite kutove



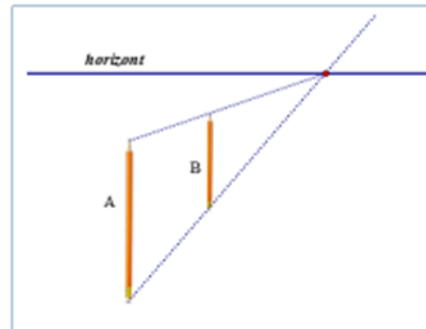
3. Na ovoj slici očistite je u točki :



- A.                      B.                      C.                      D.

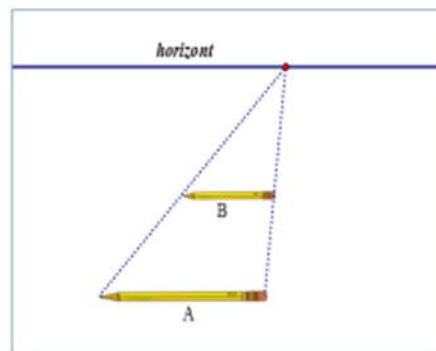
4. Koja od tvrdnji nije točna:

- A. Olovka A bliža je promatraču
- B. Olovke A i B su okomite na osnovicu
- C. Olovke A i B su paralelne s osnovicom
- D. Ništa od navedenog nije točno



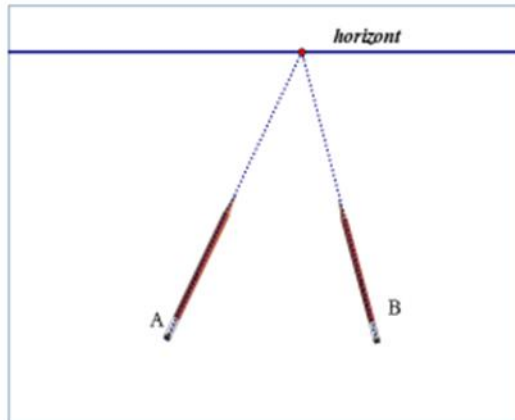
5. Koja od tvrdnji nije točna:

- A. Olovka A bliža je promatraču
- B. Olovke A i B su okomite na osnovicu
- C. Olovke A i B su paralelne s osnovicom
- D. Ništa od navedenog nije točno

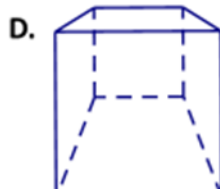
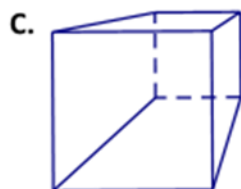
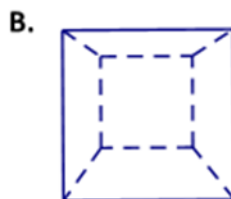
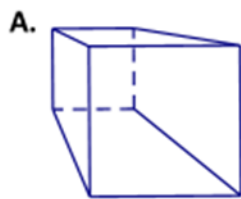
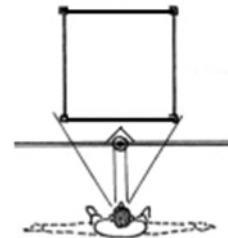


6. Koja je tvrdnja točna:

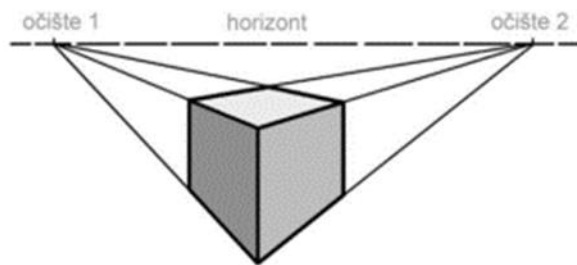
- A. Olovka A bliža je promatraču
- B. Olovke A i B su okomite na osnovicu
- C. Olovke A i B su paralelne s osnovicom
- D. Ništa od navedenog nije točno



7. Položaj promatrača u odnosu na kocku dan je slikom. Perspektivna slika promatrane kocke je:

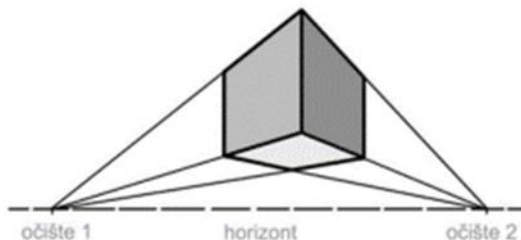


8. Perspektivna slika kocke dana je slikom. Koja od tvrdnji je istinita:



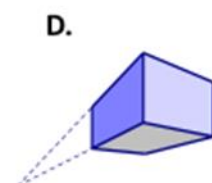
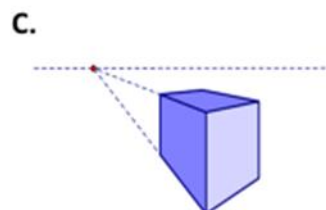
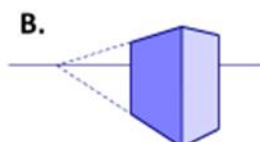
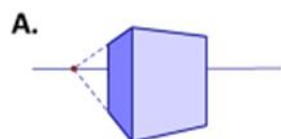
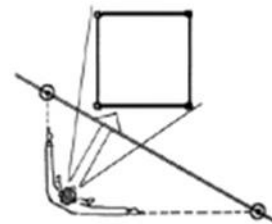
- A. Kocka je gledana odozgor okomito na jednu od pobočaka.
- B. Kocka je gledana u visini očiju.
- C. Kocka je gledana odozdol pod kutom u odnosu na jednu pobočku.
- D. Kocka je gledana odozgor pod kutom u odnosu na jednu pobočku.

9. Perspektivna slika kocke dana je slikom. Koja od tvrdnji je istinita:

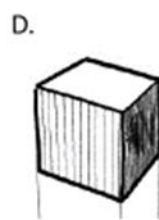


- A. Kocka je gledana odozgor okomito na jednu od pobočaka.
- B. Kocka je gledana u visini očiju.
- C. Kocka je gledana odozdol pod kutom u odnosu na jednu pobočku.
- D. Kocka je gledana odozgor pod kutom u odnosu na jednu pobočku.

10. Položaj promatrača u odnosu na kocku dan je slikom. Perspektivna slika kocke je:



11. Položaj promatrača u odnosu na kocku dan je slikom. Perspektivna slika kocke je:



12. Položaj promatrača u odnosu na kocku dan je slikom.  
Perspektivna slika kocke je:

A.



B.



C.



D.

